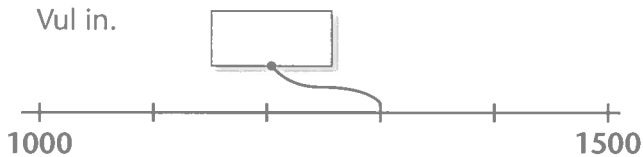




Voorbeeldsom

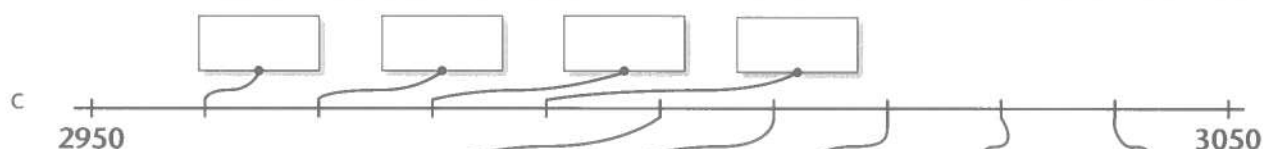
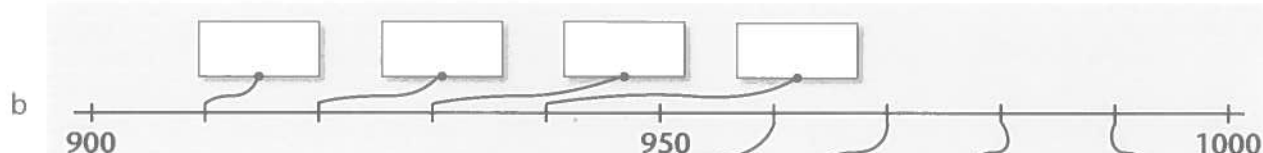
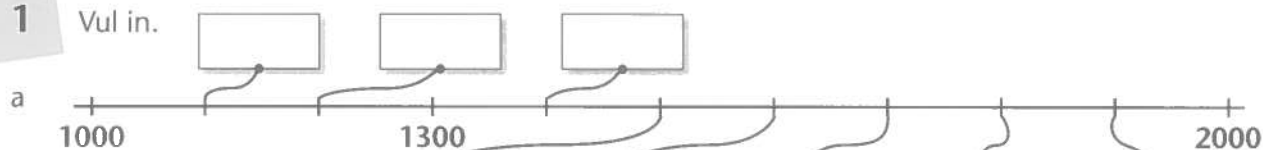
Welke plaats op de getallenlijn?

Vul in.



- 1 Welke getallen staan op de getallenlijn?
- 2 Hoeveel stukjes zijn er tussen 2 getallen?
- 3 Hoe groot is de sprong tussen 2 streepjes?
- 4 Schrijf de getallen bij de streepjes tot je weet wat er in het vakje moet.

1 Vul in.



2 Vul in.

