



Voorbeeldsom


Welk deel is gekleurd?



a

Denk aan een reep.

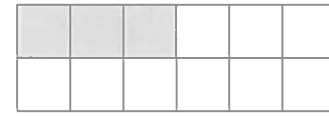
a *de helft*



b

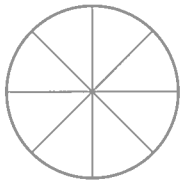
b *een derde deel*

c *een vierde deel of een kwart*



c

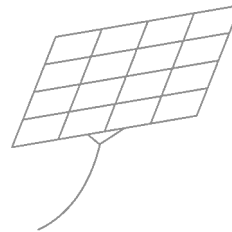
1 a Kleur.



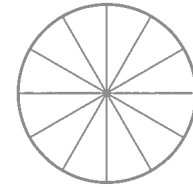
de helft rood



een derde deel geel



een vierde deel groen



een kwart blauw

b Welk deel is gekleurd?

Kleur het vakje met het goede antwoord.



een derde

een kwart

de helft



een vierde

een derde

de helft



een kwart

de helft

een derde

2 a Vul in.



Dit is de helft.

In totaal zijn er stukjes



Dit is een derde deel.

In totaal zijn er stukjes



Dit is een vierde deel.

In totaal zijn er stukjes

b 12 flessen.

De helft. Dat zijn flessen.

16 blikjes.

Een vierde deel. Dat zijn blikjes.

12 kaarten.

Een derde deel. Dat zijn kaarten.